

Přiřaďte k číslům názvy řek a k písmenům názvy moří, průlivů a zálivů.

Pracujte s učebnicí, str. 57.

Řeky:

- 1 _____
- 2 _____
- 3 _____
- 4 _____
- 5 _____
- 6 _____
- 7 _____
- 8 _____
- 9 _____
- 10 _____
- 11 _____
- 12 _____

Moře:

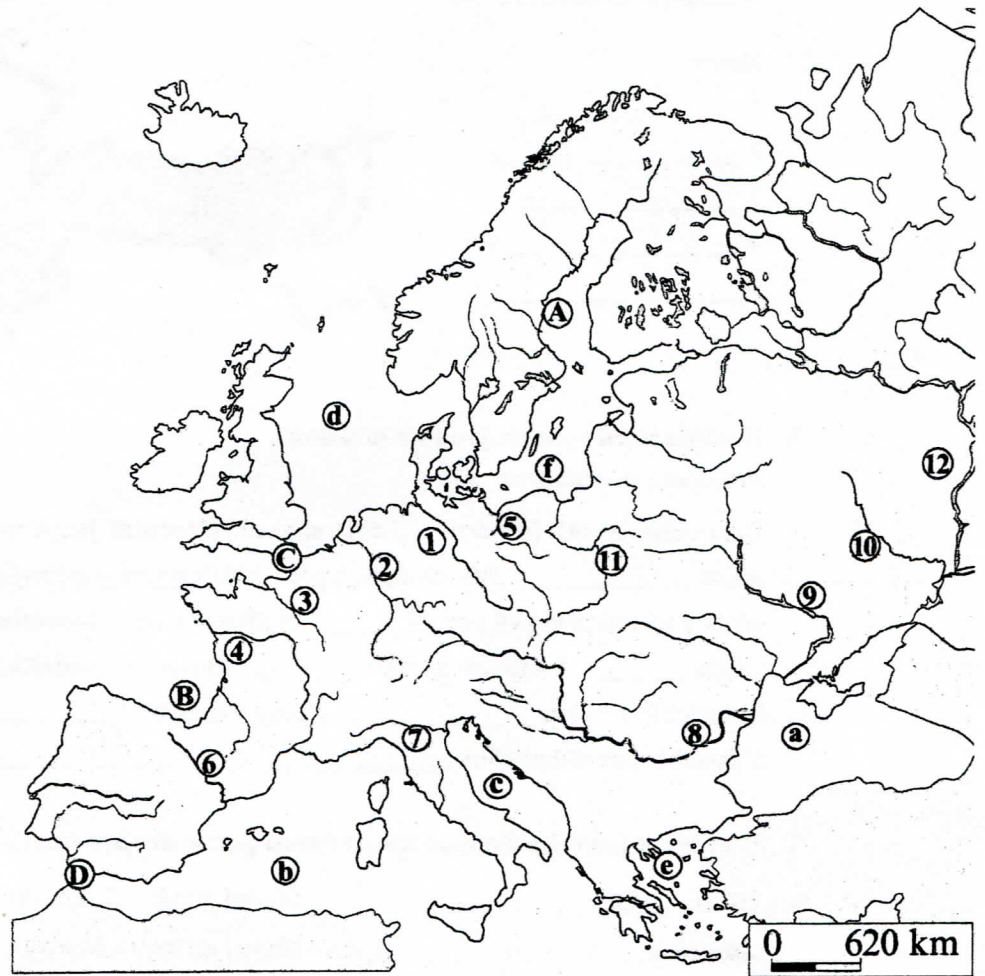
- a _____
- b _____
- c _____
- d _____
- e _____
- f _____

Zálivy:

- A _____
- B _____

Průlivy:

- C _____
- D _____



Spojte čarou části vět, které k sobě patří.

Záliv je

výběžek moře do pevniny.

Průliv je

zúžená část moře mezi dvěma částmi pevniny.

Poloostrov je

velký výběžek pevniny do moře.

Ostrov je

část pevniny ze všech stran obklopená vodní plochou.

RAKOUSKO

1. Do mapky dopište názvy sousedních států a doplňte údaje označené čísly.

Pracujte s učebnicí, str. 52.

Města:

- 1 _____
- 2 _____
- 3 _____
- 4 _____
- 5 _____




0 62 km

2. Doplňte nebo vyberte jednu z možností.

Pracujte s učebnicí, str. 52.

Rakousko je náš (severní – jižní) soused. Úředním jazykem je zde _____. Povrch státu je převážně (hornatý – nížinný), většinu území pokrývá pohoří _____. Nížina je v okolí hlavního města _____, které leží na řece _____. Sůl se těží nedaleko historického města _____. Lesy využívá _____ průmysl. V horských oblastech je rozšířen chov _____.

Vybarvěte vlajku Rakouska:



3. Z levého a pravého sloupce spojte čarou pouze dvojice údajů, které spolu souvisí.

| | |
|---------------|--|
| Vídeň | úřední jazyk v Rakousku |
| Innsbruck | hlavní město na Dunaji |
| Linec | řeka protékající Rakouskem |
| Salzburk | průmyslové město na Dunaji |
| Alpy | rekreační střediska v oblasti zvané Solná komora |
| Dunaj | velehory |
| Grossglockner | nejvyšší hora Rakouska |
| němčina | horské středisko v Alpách |
| Graz | město na jihu Rakouska |

SLOVENSKO

1. Do mapy dopište názvy sousedních států a doplňte údaje, které jsou označeny písmeny nebo čísly.

Pracujte s učebnicí, str. 46.

Pohoří:

A _____

B _____

C _____

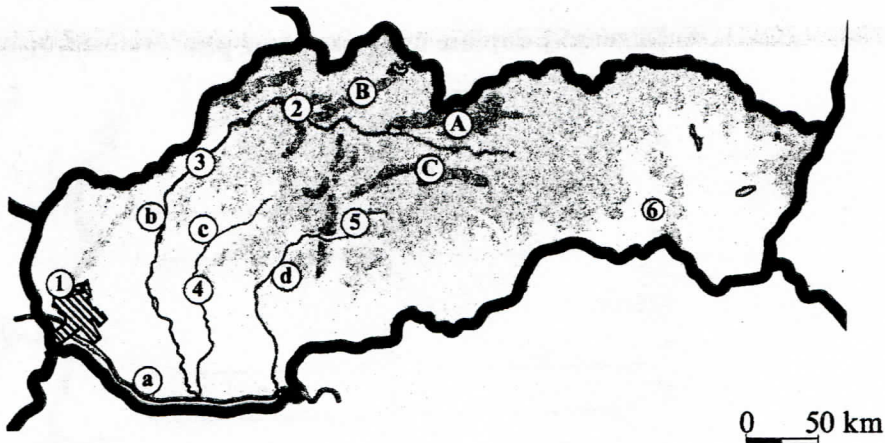
Řeky:

a _____

b _____

c _____

d _____



Města:

1 _____

4 _____

2 _____

5 _____

3 _____

6 _____

NĚMECKO

1. a) Do mapky dopište názvy sousedních států a doplňte údaje označené písmeny nebo čísly.

Pracujte s učebnicí, str. 50.

Pohoří:

A _____

B _____

C _____

Řeky:

a _____

b _____

c _____

d _____

Města:

1 _____

2 _____

3 _____

4 _____

5 _____

6 _____



b) Modře vyznačte mořské pobřeží. Dopíšte názvy moří, která oblévají severní část Německa.

2. Doplňte nebo vyberte jednu z možností.

Pracujte s učebnicí, str. 50.

S Německem sousedíme na (západě – východě).

Úředním jazykem je _____.

Stejně jako v Polsku se zde na severu území rozkládají _____, jih území je hornatý.


Z České republiky teče přes Německo řeka _____. Nejprůmyslovější oblastí protéká řeka _____. Obě se vlévají do _____ moře. Na jihu je největším

vodním tokem _____. Největší řeky jsou propojeny říčními _____. Německo má

bohaté zásoby _____ a _____, nejvýznamnější je průmysl _____.

_____. Zemědělci pěstují _____.

Vybarvěte vlajku Německa:



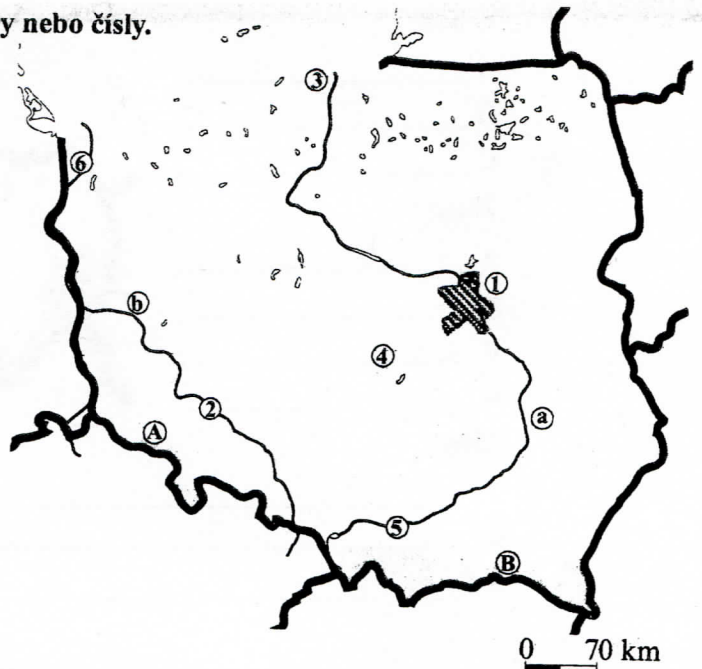
POLSKO

1. a) Do mapky doplňte údaje označené písmeny nebo čísly.

Pracujte s učebnicí, str. 48.

Pohoří: Řeky:
 A _____ a _____
 B _____ b _____

Města:
 1 _____ 4 _____
 2 _____ 5 _____
 3 _____ 6 _____



b) Modře vyznačte mořské pobřeží. Dopište název moře, které oblévá severní část Polska.

Pro zvědavé: _____

Doplňte a vyberte jednu z možností. Pracujte s přílohovou mapou z učebnice.

Polsko sousedí se (7 - 8) státy. Jsou to: _____

2. Doplňte nebo vyberte jednu z možností.

Pracujte s učebnicí, str. 48.

Polsko je náš (severní – jižní) soused. Úředním jazykem v Polsku je _____. Povrch území Polska tvoří převážně _____, na jihu se na hranicích s Českou republikou vypíná pohoří _____ a na hranicích se Slovenskem pohoří _____. Na severu Polska po ústupu ledovce zůstalo množství _____. Nejdelší polská řeka _____ teče přes hlavní město _____ a stejně jako řeka Odra ústí do _____ moře. Polsko je bohaté na zásoby _____. Rozvinutý je průmysl _____. Zemědělství vyniká pěstováním _____.

Vybarvěte vlajku Polské republiky:

